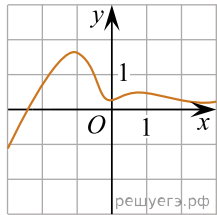
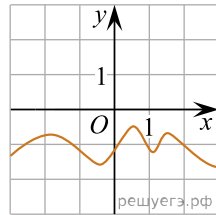


Установите соответствие между графиками функций и характеристиками этих функций на отрезке $[-1;1]$.

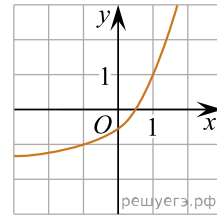
ГРАФИКИ ФУНКЦИЙ



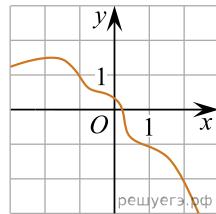
А)



Б)



В)



Г)

ХАРАКТЕРИСТИКИ

- 1) Функция возрастает на отрезке $[-1;1]$.
- 2) Функция убывает на отрезке $[-1;1]$.
- 3) Функция принимает положительное значение в каждой точке отрезка $[-1;1]$.
- 4) Функция принимает отрицательное значение в каждой точке отрезка $[-1;1]$.

В таблице под каждой буквой укажите соответствующий номер.

| А | Б | В | Г |
|---|---|---|---|
| | | | |