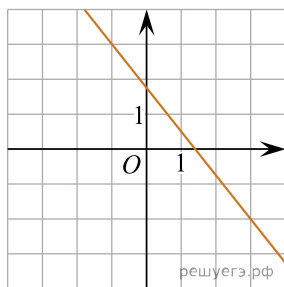
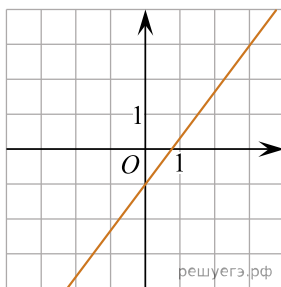


На рисунках изображены графики функций вида $y = kx + b$. Установите соответствие между графиками функций и значениями их производной в точке $x = 1$.

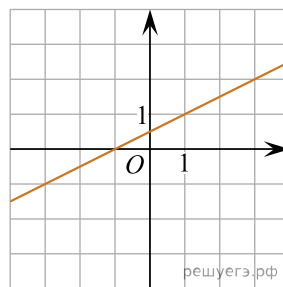
ГРАФИКИ



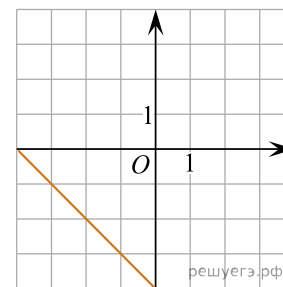
А)



Б)



В)



Г)

ЗНАЧЕНИЯ ПРОИЗВОДНОЙ

- 1) $\frac{4}{3}$ 2) 0,5 3) -1,25 4) -1