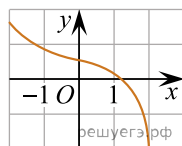
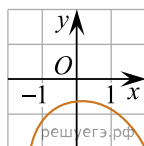


Установите соответствие между графиками функций и характеристиками этих функций на отрезке $[-1; 1]$.

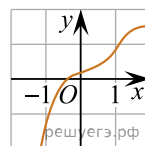
ГРАФИКИ ФУНКЦИЙ



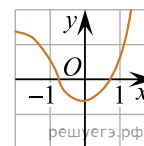
А)



Б)



В)



Г)

ХАРАКТЕРИСТИКИ

- 1) Функция имеет точку максимума на отрезке $[-1; 1]$.
- 2) Функция имеет точку минимума на отрезке $[-1; 1]$.
- 3) Функция возрастает на отрезке $[-1; 1]$.
- 4) Функция убывает на отрезке $[-1; 1]$.

В таблице под каждой буквой укажите соответствующий номер.

А	Б	В	Г