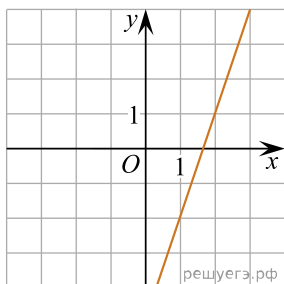
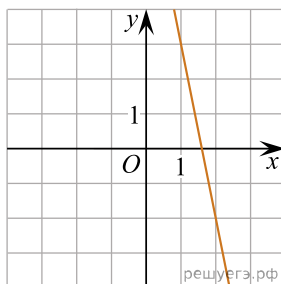


На рисунках изображены графики функций вида  $y = kx + b$ . Установите соответствие между графиками функций и значениями их производной в точке  $x = 1$ .

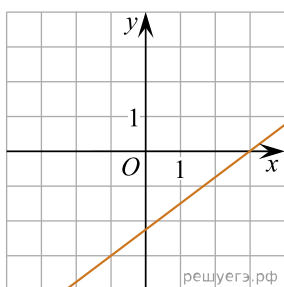
ГРАФИКИ



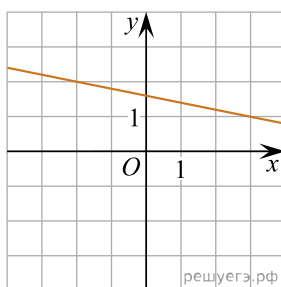
А)



Б)



В)



Г)

ЗНАЧЕНИЯ ПРОИЗВОДНОЙ

- 1) 0,75    2) -0,2    3) 3    4) -5