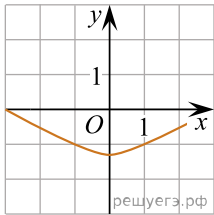
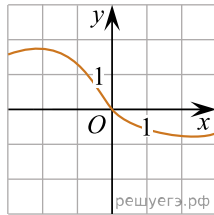


Установите соответствие между графиками функций и характеристиками этих функций на отрезке  $[-1;1]$ .

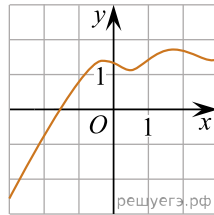
ГРАФИКИ ФУНКЦИЙ



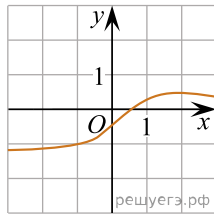
А)



Б)



В)



Г)

ХАРАКТЕРИСТИКИ

- 1) Функция принимает отрицательное значение в каждой точке отрезка  $[-1;1]$ .
- 2) Функция возрастает на отрезке  $[-1;1]$ .
- 3) Функция принимает положительное значение в каждой точке отрезка  $[-1;1]$ .
- 4) Функция убывает на отрезке  $[-1;1]$ .

В таблице под каждой буквой укажите соответствующий номер.

А	Б	В	Г