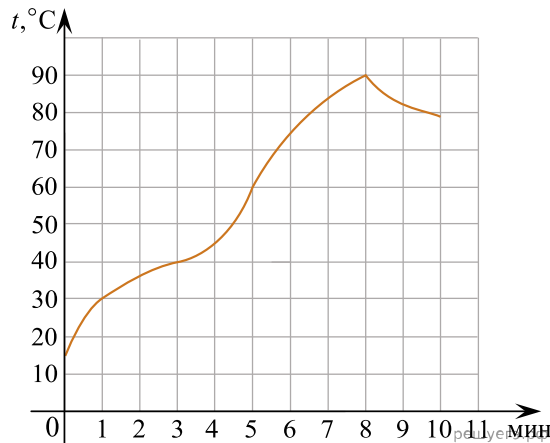


На графике показан процесс разогрева двигателя легкового автомобиля. На оси абсцисс откладывается время в минутах, прошедшее с момента запуска двигателя, на оси ординат — температура двигателя в градусах Цельсия.



Пользуясь графиком, поставьте в соответствие каждому интервалу времени характеристику процесса разогрева двигателя на этом интервале.

ИНТЕРВАЛЫ ВРЕМЕНИ

- А) 0–1 мин.
- Б) 1–3 мин.
- В) 3–6 мин.
- Г) 8–10 мин.

ХАРАКТЕРИСТИКИ ПРОЦЕССА

- 1) температура росла медленнее всего
- 2) температура падала
- 3) температура находилась в пределах от 40°C до 80°C
- 4) температура не превышала 30 °C

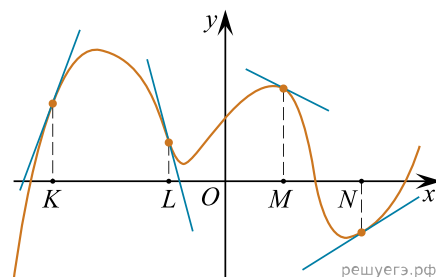
В таблице под каждой буквой, соответствующей интервалу времени, укажите номер характеристики процесса.

Запишите в ответ цифры, расположив их в порядке, соответствующем буквам:

А	Б	В	Г

ИЛИ

На рисунке изображён график функции, к которому проведены касательные в четырёх точках.



Ниже указаны значения производной в данных точках. Пользуясь графиком, поставьте в соответствие каждой точке значение производной в ней.

ТОЧКИ

- А) K
- Б) L
- В) M
- Г) N

ЗНАЧЕНИЯ ПРОИЗВОДНОЙ

- 1) -4
- 2) 3
- 3) $\frac{2}{3}$
- 4) $-0,5$

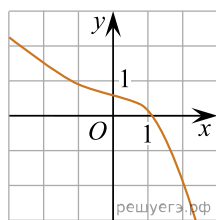
Запишите в ответ цифры, расположив их в порядке, соответствующем буквам:

А	Б	В	Г

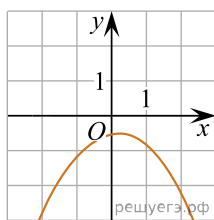
ИЛИ

Установите соответствие между графиками функций и характеристиками этих функций на отрезке $[-1;1]$.

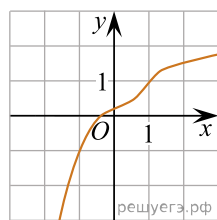
ГРАФИКИ ФУНКЦИЙ



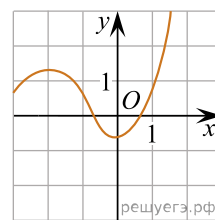
А)



Б)



В)



Г)

ХАРАКТЕРИСТИКИ

- 1) У функции есть точка минимума на отрезке $[-1;1]$.
- 2) У функции есть точка максимума на отрезке $[-1;1]$.
- 3) Функция возрастает на отрезке $[-1;1]$.
- 4) Функция убывает на отрезке $[-1;1]$.

В таблице под каждой буквой укажите соответствующий номер.

А	Б	В	Г