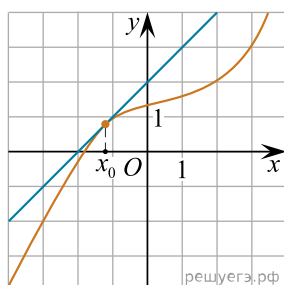
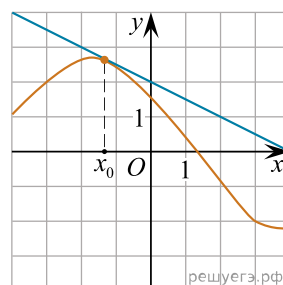


На рисунках изображены графики функций и касательные, проведённые к ним в точках с абсциссой  $x_0$ . Установите соответствие между графиками функций и значениями производной этих функций в точке  $x_0$ .

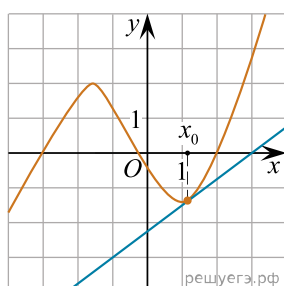
ГРАФИКИ



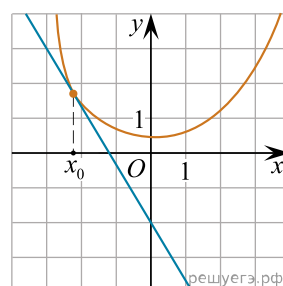
А)



Б)



В)



Г)

ЗНАЧЕНИЯ ПРОИЗВОДНОЙ

- 1)  $-\frac{5}{3}$
- 2) 0,75
- 3) 1
- 4) -0,5

В таблице под каждой буквой укажите соответствующий номер.

А	Б	В	Г