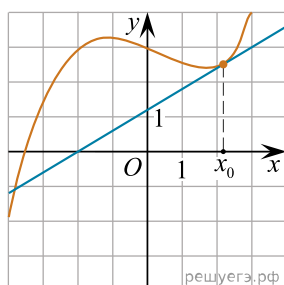
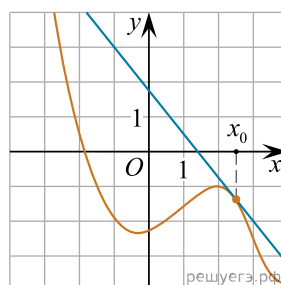


На рисунках изображены графики функций и касательные, проведённые к ним в точках с абсциссой x_0 . Установите соответствие между графиками функций и значениями производной этих функций в точке x_0 .

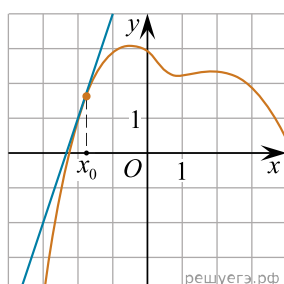
ГРАФИКИ



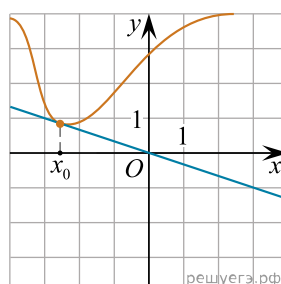
А)



Б)



В)



Г)

ЗНАЧЕНИЯ ПРОИЗВОДНОЙ

- 1) $-\frac{1}{3}$
- 2) $-1,25$
- 3) $0,6$
- 4) 3

В таблице под каждой буквой укажите соответствующий номер.

А	Б	В	Г