
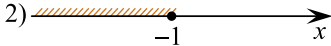

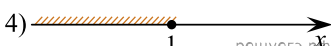


Каждому из четырёх неравенств в левом столбце соответствует одно из решений в правом столбце. Установите соответствие между неравенствами и их решениями.

НЕРАВЕНСТВА	РЕШЕНИЯ
А) $2^x \geq 0,5$	1) 
Б) $0,5^x \geq 0,5$	2) 
В) $0,5^x \leq 0,5$	3) 
Г) $2^x \leq 0,5$	4) 

Запишите в ответ цифры, расположив их в порядке, соответствующем буквам:

А	Б	В	Г