
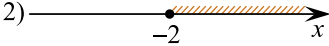
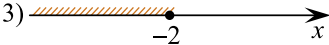



Каждому из четырёх неравенств в левом столбце соответствует одно из решений в правом столбце. Установите соответствие между неравенствами и их решениями.

| НЕРАВЕНСТВА | РЕШЕНИЯ |
|-------------------|---|
| А) $0,5^x \geq 4$ | 1)  |
| Б) $2^x \geq 4$ | 2)  |
| В) $0,5^x \leq 4$ | 3)  |
| Г) $2^x \leq 4$ | 4)  |

Запишите в ответ цифры, расположив их в порядке, соответствующем буквам:

| А | Б | В | Г |
|---|---|---|---|
| | | | |