

Каждому из четырёх неравенств в левом столбце соответствует одно из решений в правом столбце. Установите соответствие между неравенствами и их решениями.

НЕРАВЕНСТВА

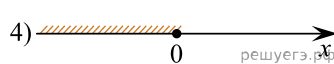
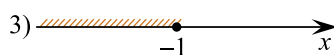
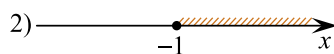
А)  $2^x \geq 1$

Б)  $2^x \leq 1$

В)  $0,5^x \leq 2$

Г)  $0,5^x \geq 2$

РЕШЕНИЯ



Запишите в ответ цифры, расположив их в порядке, соответствующем буквам:

А	Б	В	Г