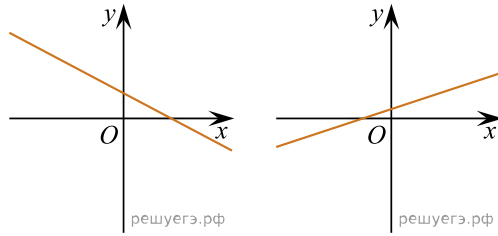
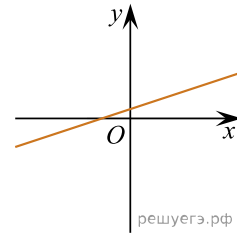


На рисунках изображены графики функций вида $y = kx + b$. Установите соответствие между графиками функций и знаками коэффициентов k и b .

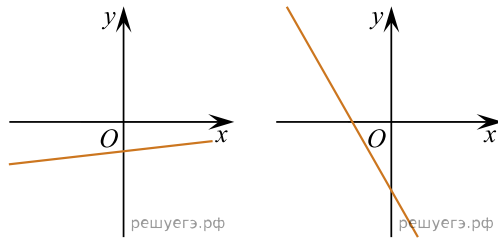
ФУНКЦИИ



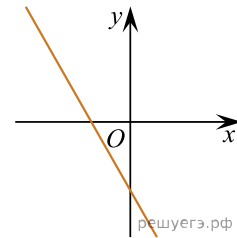
А)



Б)



В)



Г)

КОЭФФИЦИЕНТЫ

- 1) $k > 0, b > 0$
- 2) $k > 0, b < 0$
- 3) $k < 0, b > 0$
- 4) $k < 0, b < 0$

В таблице под каждой буквой укажите соответствующий номер.

А	Б	В	Г