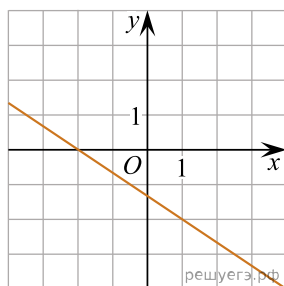
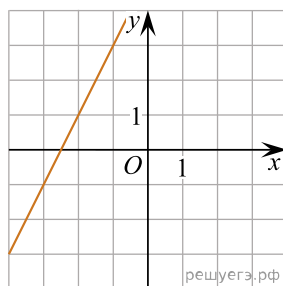


На рисунках изображены графики функций вида $y = kx + b$. Установите соответствие между графиками функций и угловыми коэффициентами прямых.

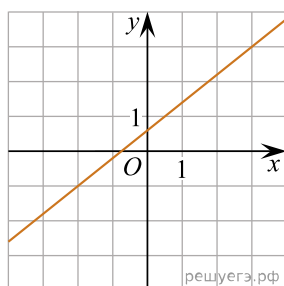
ГРАФИКИ



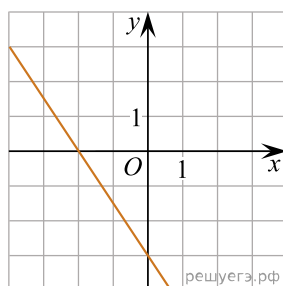
А)



Б)



В)



Г)

УГЛОВЫЕ КОЭФФИЦИЕНТЫ

- 1) 0,8
- 2) 2
- 3) -1,5
- 4) $-\frac{2}{3}$

В таблице под каждой буквой укажите соответствующий номер.

А	Б	В	Г