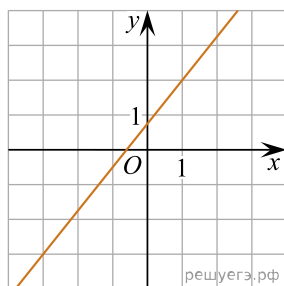
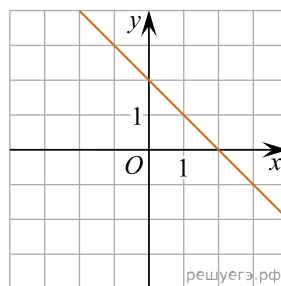


На рисунках изображены графики функций вида $y = kx + b$. Установите соответствие между графиками функций и угловыми коэффициентами прямых.

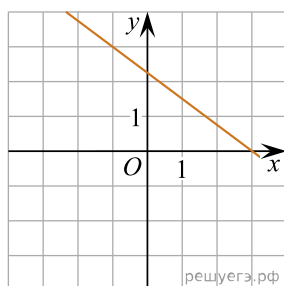
ГРАФИКИ



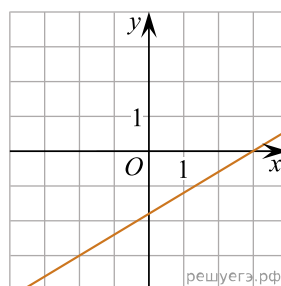
A)



Б)



В)



Г)

УГЛОВЫЕ КОЭФФИЦИЕНТЫ

- 1) 0,6
- 2) -1
- 3) 1,25
- 4) -0,75

В таблице под каждой буквой укажите соответствующий номер.

А	Б	В	Г