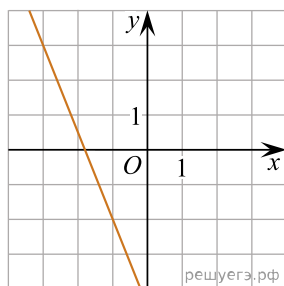
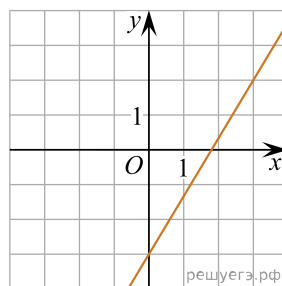


На рисунках изображены графики функций вида  $y = kx + b$ . Установите соответствие между графиками функций и угловыми коэффициентами прямых.

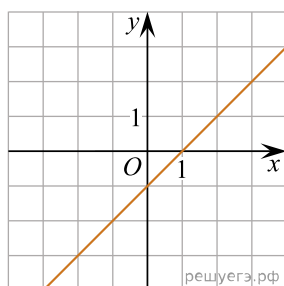
ГРАФИКИ



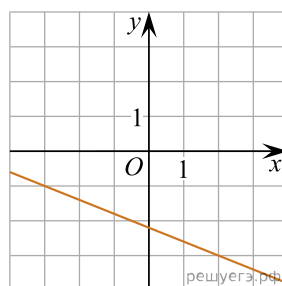
A)



Б)



В)



Г)

УГЛОВЫЕ КОЭФФИЦИЕНТЫ

- 1)  $-2,5$
- 2)  $-0,4$
- 3)  $\frac{5}{3}$
- 4)  $1$

В таблице под каждой буквой укажите соответствующий номер.

А	Б	В	Г