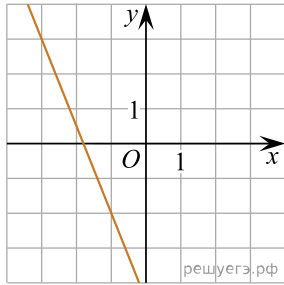
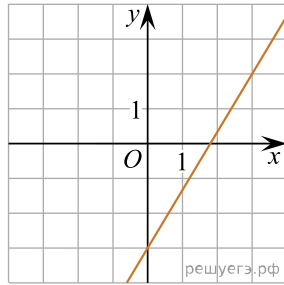


На рисунках изображены графики функций вида $y = kx + b$. Установите соответствие между графиками функций и угловыми коэффициентами прямых.

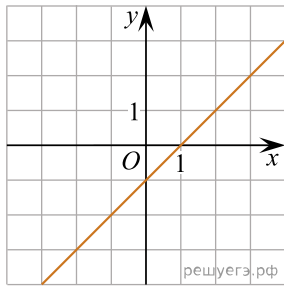
ГРАФИКИ



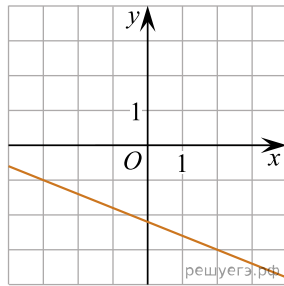
А)



Б)



В)



Г)

УГЛОВЫЕ КОЭФФИЦИЕНТЫ

- 1) $-2,5$
- 2) $-0,4$
- 3) $\frac{5}{3}$
- 4) 1

В таблице под каждой буквой укажите соответствующий номер.

А	Б	В	Г
---	---	---	---