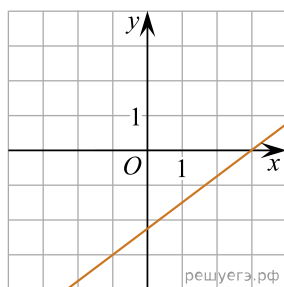
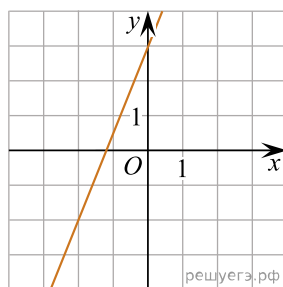


На рисунках изображены графики функций вида  $y = kx + b$ . Установите соответствие между графиками функций и угловыми коэффициентами прямых.

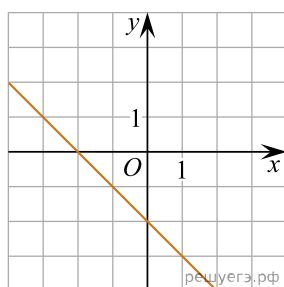
## ГРАФИКИ



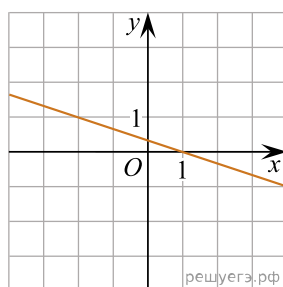
А)



Б)



В)



Г)

## УГЛОВЫЕ КОЭФФИЦИЕНТЫ

- 1) 0,75
- 2)  $-\frac{1}{3}$
- 3) -1
- 4) 2,5

В таблице под каждой буквой укажите соответствующий номер.

А	Б	В	Г