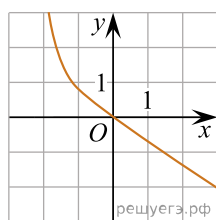
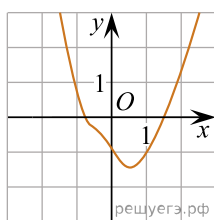


Установите соответствие между графиками функций и характеристиками этих функций на отрезке $[-1;1]$.

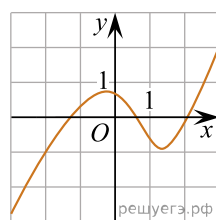
ГРАФИКИ ФУНКЦИЙ



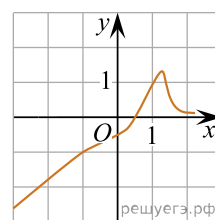
А)



Б)



В)



Г)

ХАРАКТЕРИСТИКИ

- 1) Функция возрастает на отрезке $[-1;1]$.
- 2) У функции есть точка минимума на отрезке $[-1;1]$.
- 3) Функция убывает на отрезке $[-1;1]$.
- 4) У функции есть точка максимума на отрезке $[-1;1]$.

В таблице под каждой буквой укажите соответствующий номер.

А	Б	В	Г