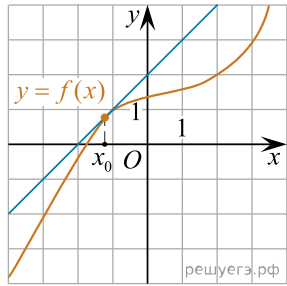


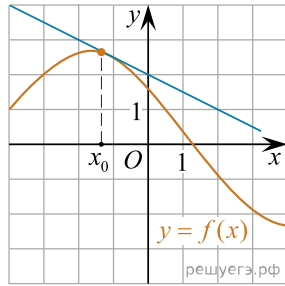
Установите соответствие между графиками функций и значениями производных этих функций в точке x_0 .

--	--	--	--

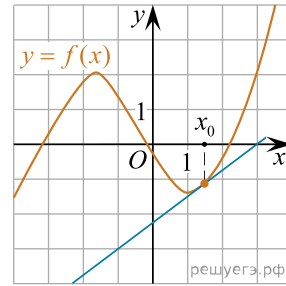
ГРАФИКИ



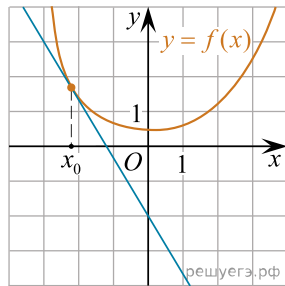
A)



Б)



В)



Г)

ЗНАЧЕНИЯ ПРОИЗВОДНЫХ

- 1) $-\frac{5}{3}$
- 2) 0,75
- 3) 1
- 4) $-0,5$

В таблице под каждой буквой укажите соответствующий номер.

А	Б	В	Г
---	---	---	---