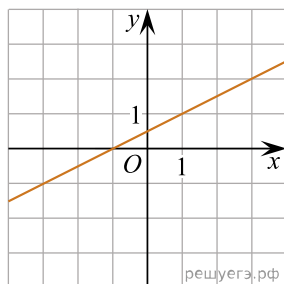
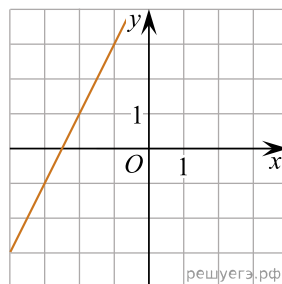


Установите соответствие между графиками линейных функций и угловыми коэффициентами прямых.

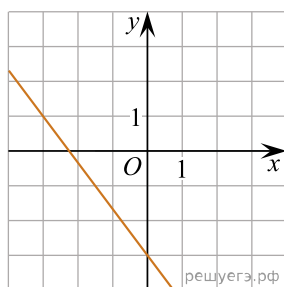
# ГРАФИКИ



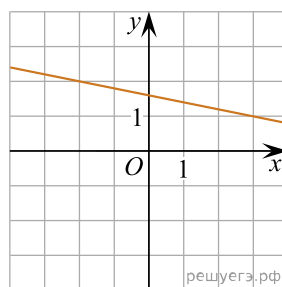
A)



Б)



В)



Г)

# УГЛОВЫЕ КОЭФФИЦИЕНТЫ

- 1)  $-0,2$
- 2)  $-\frac{4}{3}$
- 3)  $0,5$
- 4)  $2$

Запишите в ответ цифры, расположив их в порядке, соответствующем буквам:

А	Б	В	Г