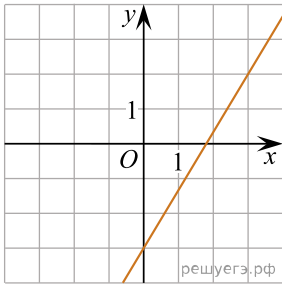
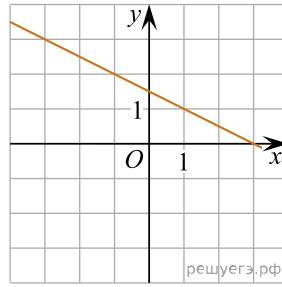


Установите соответствие между графиками линейных функций и угловыми коэффициентами прямых.

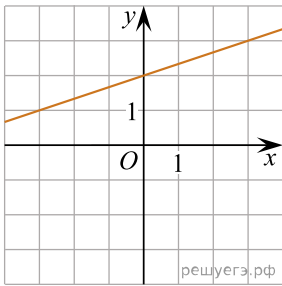
ГРАФИКИ



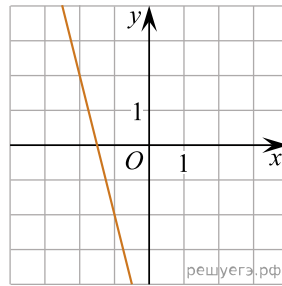
А)



Б)



В)



Г)

УГЛОВЫЕ КОЭФФИЦИЕНТЫ

- 1)  $-0,5$
- 2)  $\frac{1}{3}$
- 3)  $-4$
- 4)  $\frac{5}{3}$

Запишите в ответ цифры, расположив их в порядке, соответствующем буквам:

А	Б	В	Г