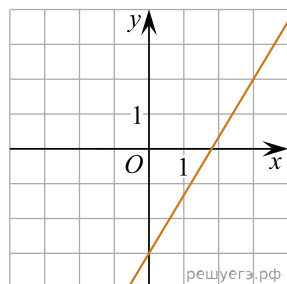
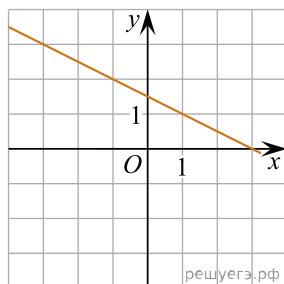


Установите соответствие между графиками линейных функций и угловыми коэффициентами прямых.

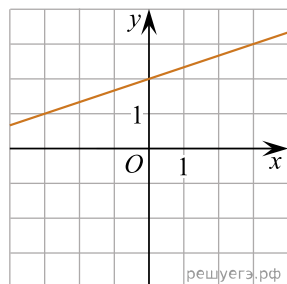
ГРАФИКИ



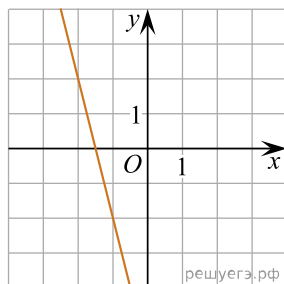
А)



Б)



В)



Г)

УГЛОВЫЕ КОЭФФИЦИЕНТЫ

- 1) $-0,5$
- 2) $\frac{1}{3}$
- 3) -4
- 4) $\frac{5}{3}$

Запишите в ответ цифры, расположив их в порядке, соответствующем буквам:

А	Б	В	Г