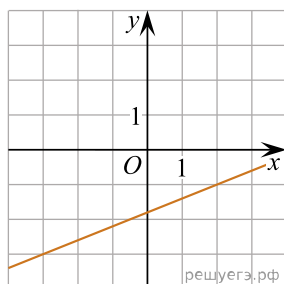
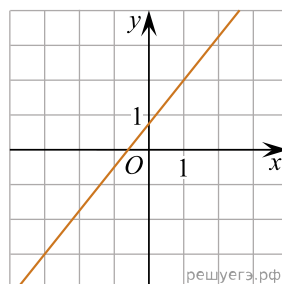


Установите соответствие между графиками линейных функций и угловыми коэффициентами прямых.

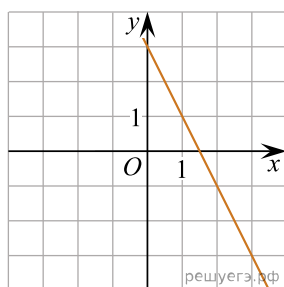
ГРАФИКИ



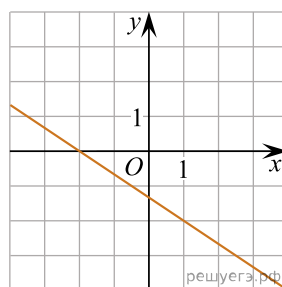
А)



Б)



В)



Г)

УГЛОВЫЕ КОЭФФИЦИЕНТЫ

- 1) 0,4
- 2) 1,25
- 3)  $-\frac{2}{3}$
- 4) -2

Запишите в ответ цифры, расположив их в порядке, соответствующем буквам:

А	Б	В	Г