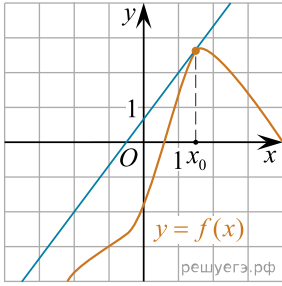
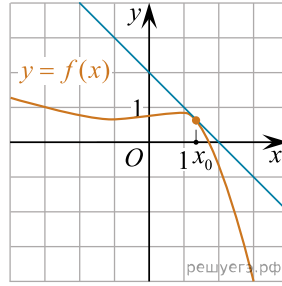


Установите соответствие между графиками функций и значениями производных этих функций в точке x_0 .

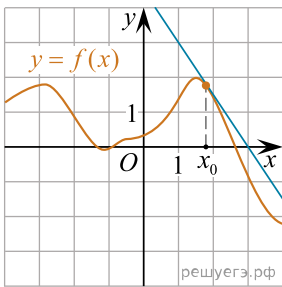
ГРАФИКИ



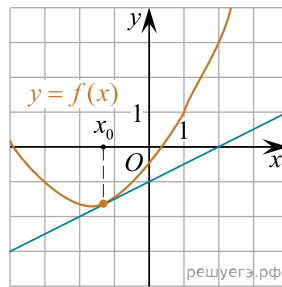
А)



Б)



В)



Г)

ЗНАЧЕНИЯ ПРОИЗВОДНЫХ

- 1) -1
- 2) $-1,5$
- 3) $0,5$
- 4) $\frac{4}{3}$

В таблице под каждой буквой укажите соответствующий номер.

А	Б	В	Г