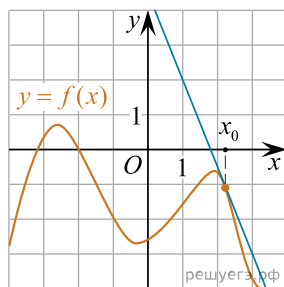
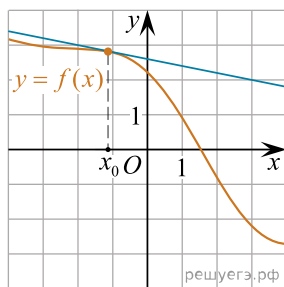


Установите соответствие между графиками функций и значениями производных этих функций в точке x_0 .

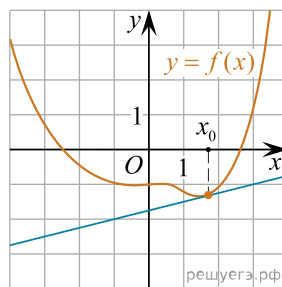
ГРАФИКИ



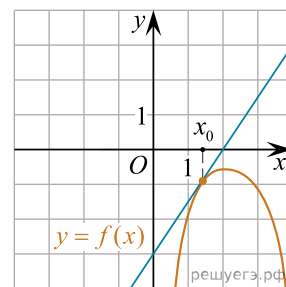
A)



Б)



В)



Г)

ЗНАЧЕНИЯ ПРОИЗВОДНЫХ

- 1) $-0,2$
- 2) $-2,5$
- 3) $1,5$
- 4) $0,25$

В таблице под каждой буквой укажите соответствующий номер.

А	Б	В	Г