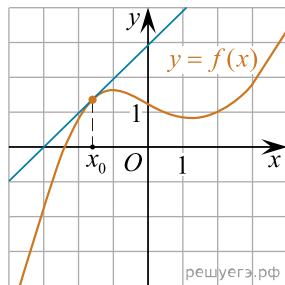
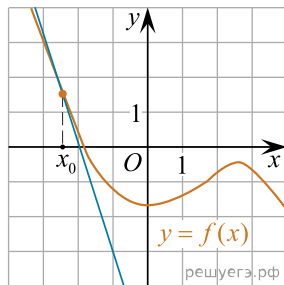


Каждому из четырёх графиков функций в первом перечне соответствует одно из значений производной функции $f(x)$ в точке x_0 во втором перечне. Установите соответствие между графиками и значениями производной.

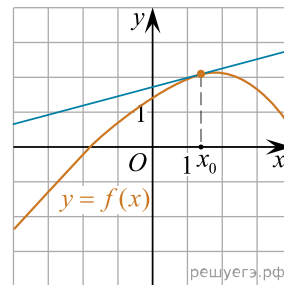
ГРАФИКИ



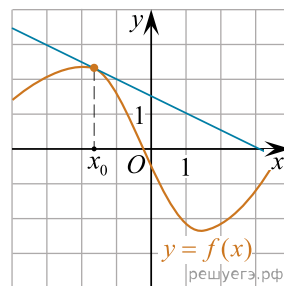
А)



Б)



В)



Г)

ЗНАЧЕНИЯ ПРОИЗВОДНОЙ

- 1) -3
- 2) $\frac{1}{4}$
- 3) 1
- 4) $-\frac{1}{2}$

В таблице под каждой буквой укажите соответствующий номер.

Запишите в ответ цифры, расположив их в порядке, соответствующем буквам:

А	Б	В	Г