





Каждому из четырёх неравенств в левом столбце соответствует одно из решений в правом столбце. Установите соответствие между неравенствами и их решениями.

НЕРАВЕНСТВА	РЕШЕНИЯ
А) $(x - 1)^2(x - 5) < 0$	1) 
Б) $(x - 1)(x - 5) < 0$	2) 
В) $\frac{x - 1}{x - 5} > 0$	3) 
Г) $\frac{(x - 5)^2}{x - 1} > 0$	4) 

В таблице под каждой буквой укажите соответствующий номер.

А	Б	В	Г