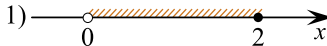





Каждому из четырёх неравенств в левом столбце соответствует одно из решений в правом столбце. Установите соответствие между неравенствами и их решениями.

НЕРАВЕНСТВА	РЕШЕНИЯ
А) $\log_{0,5} x \geq 1$	1) 
Б) $\log_{0,5} x \leq -1$	2) 
В) $\log_{0,5} x \geq -1$	3) 
Г) $\log_{0,5} x \leq 1$	4) 

решуегэ.рф

Запишите в ответ цифры, расположив их в порядке, соответствующем буквам:

А	Б	В	Г