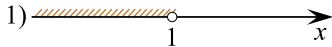

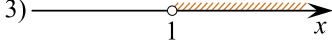
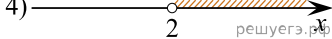


Каждому из четырёх неравенств в левом столбце соответствует одно из решений из правого столбца. Установите соответствие между неравенствами и множествами их решениями.

НЕРАВЕНСТВА	РЕШЕНИЯ
А) $\frac{(x-2)^2}{x-1} < 0$	1) 
Б) $2^{-x} < 0,5$	2) 
В) $\log_2 x > 1$	3) 
Г) $(x-1)(x-2) < 0$	4) 

Запишите в ответ цифры, расположив их в порядке, соответствующем буквам:

А	Б	В	Г