
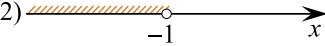
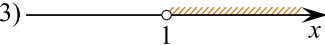



Каждому из четырёх неравенств в левом столбце соответствует одно из решений из правого столбца. Установите соответствие между неравенствами и множествами их решений.

НЕРАВЕНСТВА	РЕШЕНИЯ
А) $\log_2 x > 0$	1) 
Б) $2^{-x} > 2$	2) 
В) $\frac{x}{x-1} < 0$	3) 
Г) $\frac{1}{x(x-1)} > 0$	4) 

Запишите в ответ цифры, расположив их в порядке, соответствующем буквам:

А	Б	В	Г