





Керамическая плитка одной и той же торговой марки выпускается трёх разных размеров. Плитки упакованы в пачки. Пользуясь данными таблицы, определите, в каком случае цена одного квадратного метра плитки будет наименьшей.

Размер плитки (см  timescm)	Количество плиток в пачке	Цена пачки
20  times20	25	655 р.
20  times30	17	663 р.
30  times30	11	653 р. 40 к.

В ответ запишите найденную наименьшую цену квадратного метра в рублях.