





Керамическая плитка одной и той же торговой марки выпускается трёх разных размеров. Плитки упакованы в пачки. Пользуясь данными таблицы, определите, в каком случае цена одного квадратного метра плитки будет наименьшей.

Размер плитки (см  times см)	Количество плиток в пачке	Цена пачки
20  times 30	20	612 р.
30  times 40	11	679 р. 80 к.
20  times 20	29	585 р. 80 к.

В ответ запишите найденную наименьшую цену квадратного метра в рублях.