







На рисунке изображён график функции   $y=F(x)$  — одной из первообразных некоторой функции   $f(x)$ , определённой на интервале   $(-2;5)$ . Пользуясь рисунком, определите количество решений уравнения   $f(x)=0$  на отрезке   $[-1;4]$ .

 b8\_1\_19.0.eps