







На рисунке изображён график функции  $y=F(x)$ — одной из первообразных некоторой функции  $f(x)$, определённой на интервале  $(-2;6)$. Пользуясь рисунком, определите количество решений уравнения  $f(x)=0$ на отрезке  $[-1;5]$.

 b8_1_9.0.eps