




Найдите квадрат длины вектора  $\overset{\to}{\mathop{a}}$, +  $\overset{\to}{\mathop{b}}$.

 МА.ОБ10.В6.162/innerimg0.jpg