






Две стороны прямоугольника  ABCD равны 6 и 8. Диагонали пересекаются в точке  O. Найдите длину разности векторов  \overrightarrow{AO} , и  \overrightarrow{BO} .

 MA.OB10.B6.142/innerimg0.jpg