




Две стороны прямоугольника $ABCD$ равны 6 и 8. Найдите скалярное произведение векторов  \overrightarrow{AB} , и  \overrightarrow{AD} .

 МА.ОБ10.В6.140/innerimg0.jpg