




Две стороны прямоугольника  $ABCD$  равны 6 и 8. Найдите длину суммы векторов   $\overrightarrow{AB}$ , и   $\overrightarrow{AD}$ .

 МА.ОБ10.В6.138/innerimg0.jpg