







Точки  $O(0, 0)$,  $A(6, 8)$,  $B(8, 2)$ являются вершинами треугольника. Найдите длину его средней линии  CD , параллельной  OA .

 MA.OB10.B6.114/innerimg0.jpg