







Точки   $O(0, 0)$ ,   $A(6, 8)$ ,   $B(6, 2)$  и   $C$  являются вершинами параллелограмма. Найдите ординату точки   $C$ .

 MA.OB10.B6.102/innerimg0.jpg