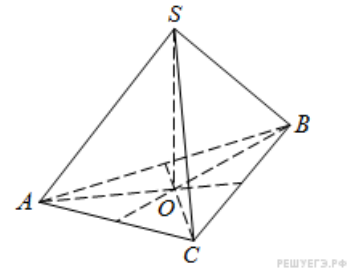


Пирамида

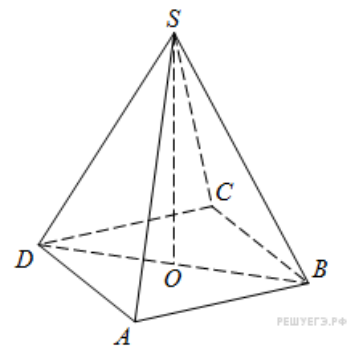
1.

В правильной треугольной пирамиде $SABC$ с вершиной S биссектрисы треугольника ABC пересекаются в точке O . Площадь треугольника ABC равна 2; объем пирамиды равен 6. Найдите длину отрезка OS .



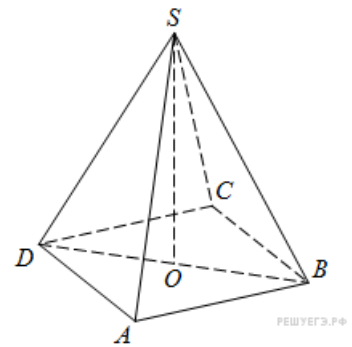
2.

В правильной четырехугольной пирамиде $SABCD$ точка O – центр основания, S – вершина, $SO = 15$, $BD = 16$. Найдите боковое ребро SA .



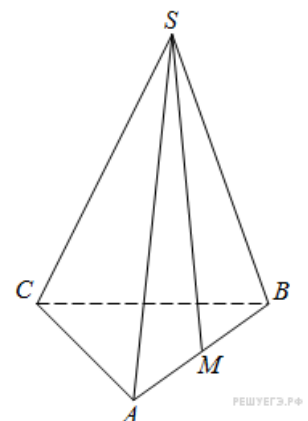
3.

В правильной четырехугольной пирамиде $SABCD$ точка O – центр основания, S – вершина, $SB = 13$, $AC = 24$. Найдите длину отрезка SO .



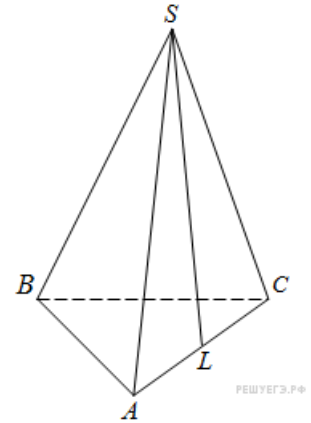
4.

В правильной треугольной пирамиде $SABC$ точка M – середина ребра AB , S – вершина. Известно, что $BC = 3$, а площадь боковой поверхности пирамиды равна 45. Найдите длину отрезка SM .



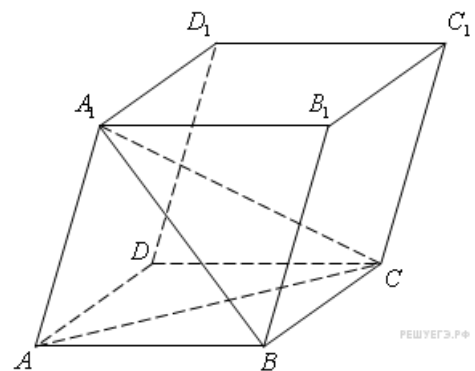
5.

В правильной треугольной пирамиде $SABC$ точка L — середина ребра AC , S — вершина. Известно, что $BC = 6$, а $SL = 5$. Найдите площадь боковой поверхности пирамиды.



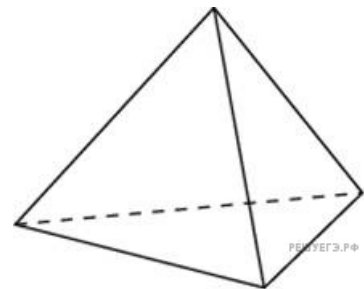
6.

Объем параллелепипеда $ABCD A_1 B_1 C_1 D_1$ равен 9. Найдите объем треугольной пирамиды $ABCA_1$.



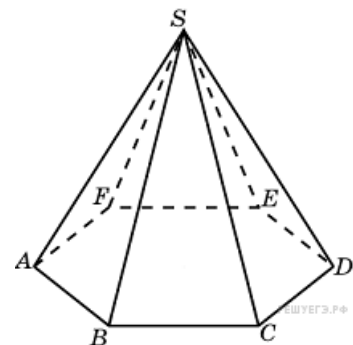
7.

Во сколько раз увеличится объем правильного тетраэдра, если все его ребра увеличить в два раза?



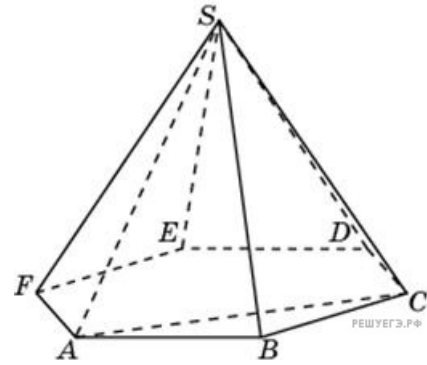
8.

Во сколько раз увеличится объем пирамиды, если ее высоту увеличить в четыре раза?



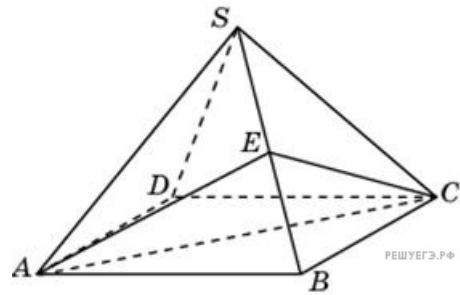
9.

Объем треугольной пирамиды $SABC$, являющейся частью правильной шестиугольной пирамиды $SABCDEF$, равен 1. Найдите объем шестиугольной пирамиды.



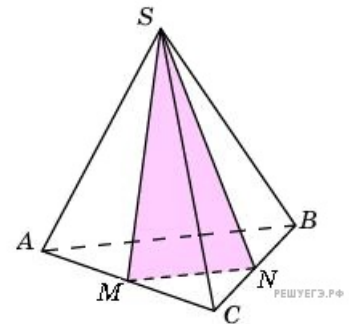
10.

Объем правильной четырехугольной пирамиды $SABCD$ равен 12. Точка E – середина ребра SB . Найдите объем треугольной пирамиды $EABC$.



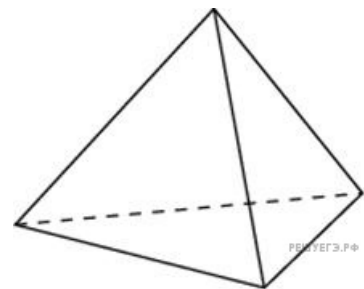
11.

От треугольной пирамиды, объем которой равен 12, отсечена треугольная пирамида плоскостью, проходящей через вершину пирамиды и среднюю линию основания. Найдите объем отсеченной треугольной пирамиды.



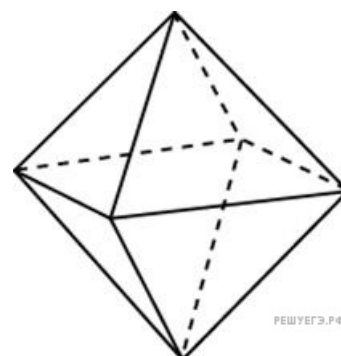
12.

Во сколько раз увеличится площадь поверхности правильного тетраэдра, если все его ребра увеличить в два раза?



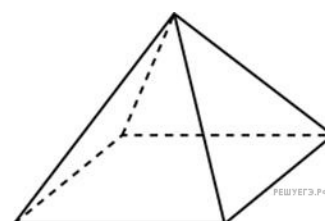
13.

Во сколько раз увеличится площадь поверхности октаэдра, если все его ребра увеличить в 3 раза?



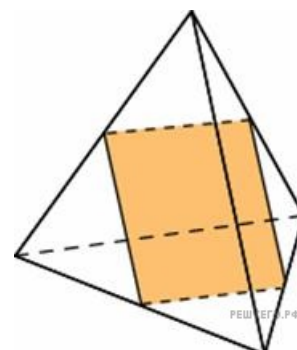
14.

Во сколько раз увеличится площадь поверхности пирамиды, если все ее ребра увеличить в 2 раза?



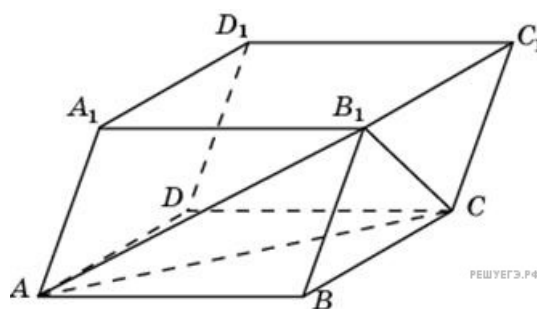
15.

Ребра тетраэдра равны 1. Найдите площадь сечения, проходящего через середины четырех его ребер.



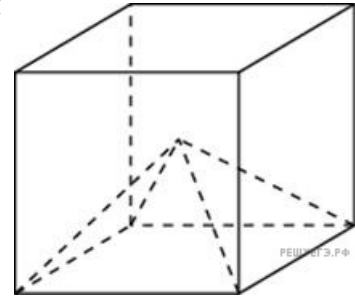
16.

Объем параллелепипеда $ABCD A_1 B_1 C_1 D_1$ равен 12. Найдите объем треугольной пирамиды $B_1 ABC$.



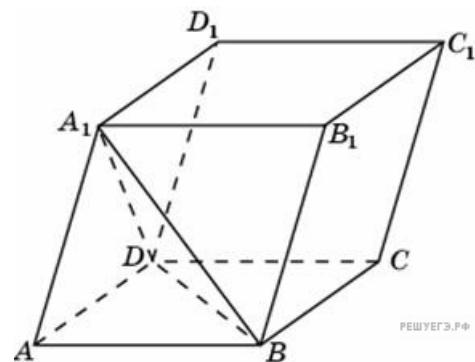
17.

Объем куба равен 12. Найдите объем четырехугольной пирамиды, основанием которой является грань куба, а вершиной — центр куба.



18.

Найдите объем параллелепипеда $ABCD A_1 B_1 C_1 D_1$, если объем треугольной пирамиды $ABDA_1$ равен 3.



19.

В правильной треугольной пирамиде $SABC$ R — середина ребра BC , S — вершина. Известно, что $AB = 1$, а $SR = 2$. Найдите площадь боковой поверхности.

20.

В правильной треугольной пирамиде $SABC$ N — середина ребра BC , S — вершина. Известно, что $AB = 1$, а площадь боковой поверхности равна 3. Найдите длину отрезка SN .

21.

В правильной треугольной пирамиде $SABC$ точка L — середина ребра BC , S — вершина. Известно, что $SL = 2$, а площадь боковой поверхности равна 3. Найдите длину отрезка AB .

22.

В правильной треугольной пирамиде $SABC$ медианы основания пересекаются в точке M . Площадь треугольника ABC равна 3, объем пирамиды равен 1. Найдите длину отрезка MS .

23.

В правильной треугольной пирамиде $SABC$ медианы основания пересекаются в точке M . Площадь треугольника ABC равна 3, $MS = 1$. Найдите объем пирамиды.

24.

В правильной треугольной пирамиде $SABC$ медианы основания пересекаются в точке P . Объем пирамиды равен 1, $PS = 1$. Найдите площадь треугольника ABC .