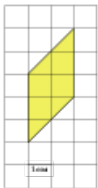


Задания

Задания Д15 № 252867

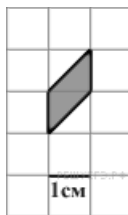
Найдите площадь параллелограмма, изображенного на клетчатой бумаге с размером клетки $1\text{ см} \times 1\text{ см}$ (см. рис.). Ответ дайте в квадратных сантиметрах.



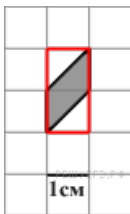
Решение.

Это задание ещё не решено, приводим решение прототипа.

Найдите площадь параллелограмма, изображенного на клетчатой бумаге с размером клетки $1\text{ см} \times 1\text{ см}$ (см. рис.). Ответ дайте в квадратных сантиметрах.



Достроим четырёхугольник до прямоугольника площади 2, как показано на рисунке. Площади белых и серых частей прямоугольника равны, поэтому искомая площадь серого четырёхугольника равна 1 см^2 .



[Прототип задания](#)