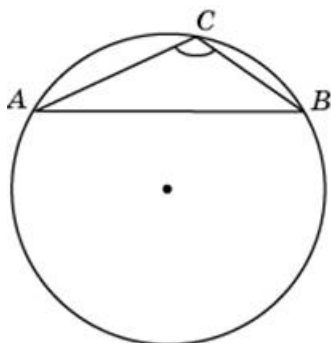
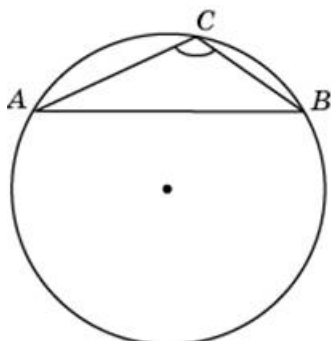


**Варианты заданий**

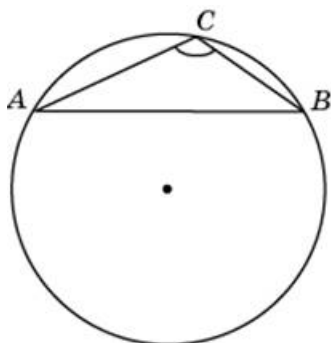
1.

Найдите хорду, на которую опирается угол  $120^\circ$ , вписанный в окружность радиуса  $22\sqrt{3}$ .

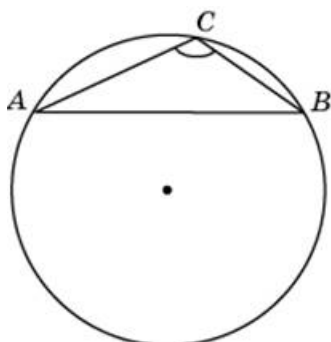
2.

Найдите хорду, на которую опирается угол  $120^\circ$ , вписанный в окружность радиуса  $37\sqrt{3}$ .

3.

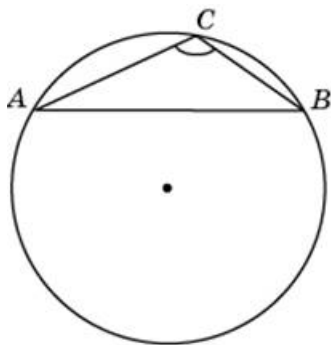
Найдите хорду, на которую опирается угол  $120^\circ$ , вписанный в окружность радиуса  $35\sqrt{3}$ .

4.

Найдите хорду, на которую опирается угол  $120^\circ$ , вписанный в окружность радиуса  $4\sqrt{3}$ .

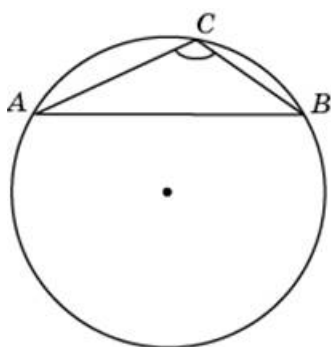
5.

Найдите хорду, на которую опирается угол  $120^\circ$ , вписанный в окружность радиуса  $48\sqrt{3}$ .



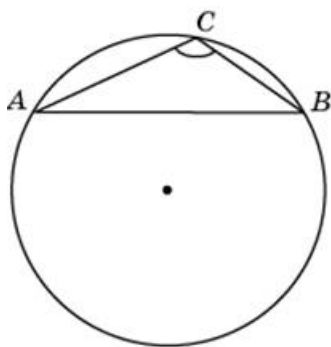
6.

Найдите хорду, на которую опирается угол  $120^\circ$ , вписанный в окружность радиуса  $33\sqrt{3}$ .



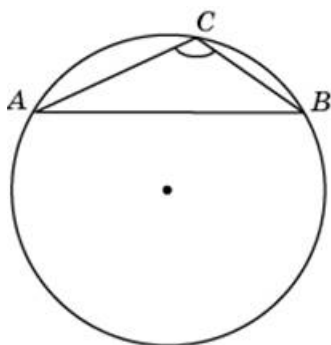
7.

Найдите хорду, на которую опирается угол  $120^\circ$ , вписанный в окружность радиуса  $39\sqrt{3}$ .



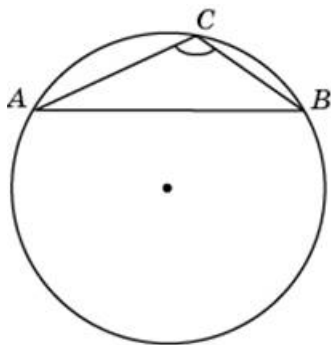
8.

Найдите хорду, на которую опирается угол  $120^\circ$ , вписанный в окружность радиуса  $45\sqrt{3}$ .



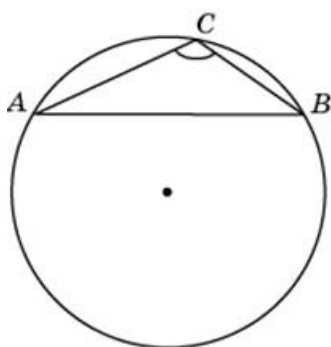
9.

Найдите хорду, на которую опирается угол  $120^\circ$ , вписанный в окружность радиуса  $2\sqrt{3}$ .



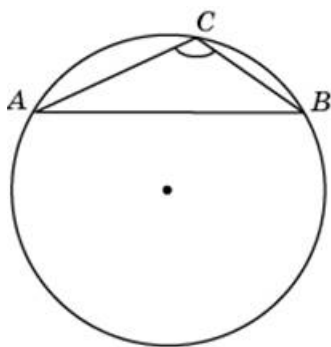
10.

Найдите хорду, на которую опирается угол  $120^\circ$ , вписанный в окружность радиуса  $19\sqrt{3}$ .



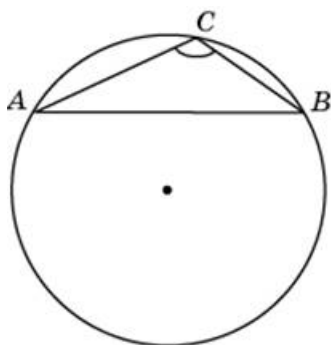
11.

Найдите хорду, на которую опирается угол  $120^\circ$ , вписанный в окружность радиуса  $50\sqrt{3}$ .

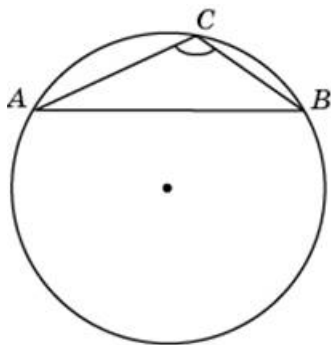


12.

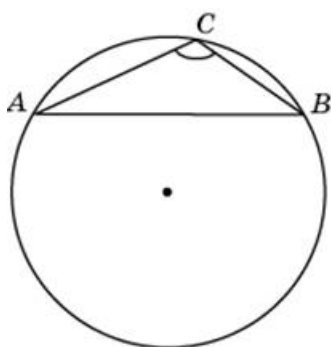
Найдите хорду, на которую опирается угол  $120^\circ$ , вписанный в окружность радиуса  $43\sqrt{3}$ .



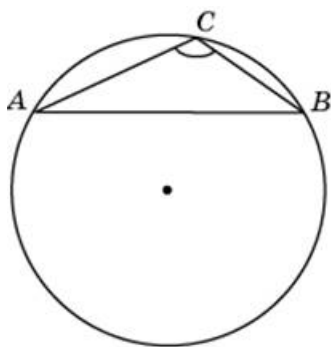
13.

Найдите хорду, на которую опирается угол  $120^\circ$ , вписанный в окружность радиуса  $49\sqrt{3}$ .

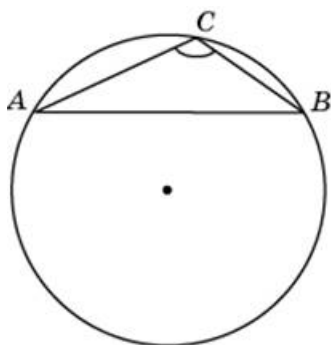
14.

Найдите хорду, на которую опирается угол  $120^\circ$ , вписанный в окружность радиуса  $27\sqrt{3}$ .

15.

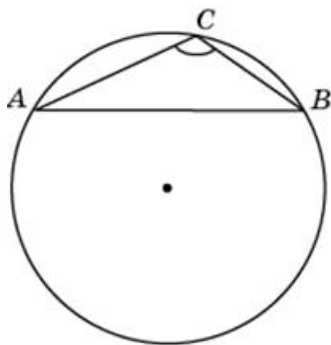
Найдите хорду, на которую опирается угол  $120^\circ$ , вписанный в окружность радиуса  $16\sqrt{3}$ .

16.

Найдите хорду, на которую опирается угол  $120^\circ$ , вписанный в окружность радиуса  $24\sqrt{3}$ .

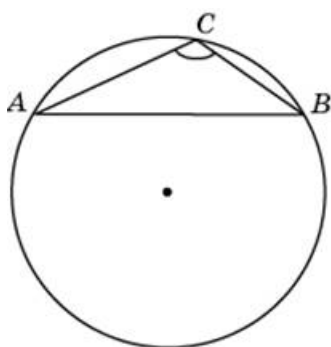
17.

Найдите хорду, на которую опирается угол  $120^\circ$ , вписанный в окружность радиуса  $25\sqrt{3}$ .



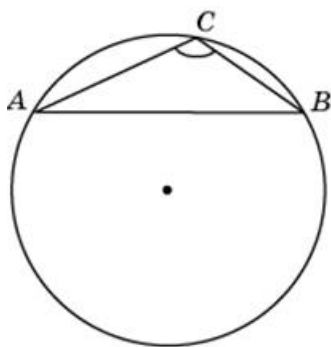
18.

Найдите хорду, на которую опирается угол  $120^\circ$ , вписанный в окружность радиуса  $30\sqrt{3}$ .



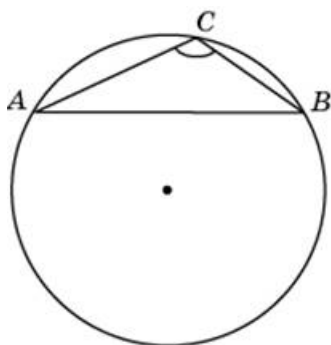
19.

Найдите хорду, на которую опирается угол  $120^\circ$ , вписанный в окружность радиуса  $40\sqrt{3}$ .

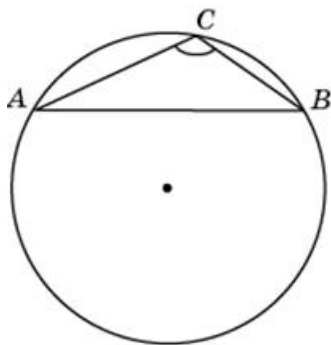


20.

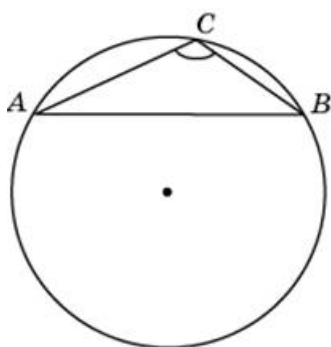
Найдите хорду, на которую опирается угол  $120^\circ$ , вписанный в окружность радиуса  $44\sqrt{3}$ .



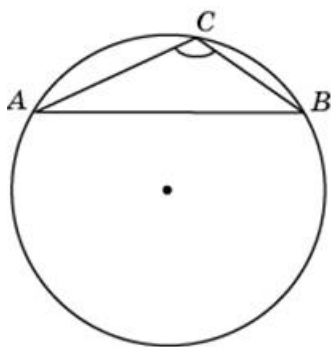
21.

Найдите хорду, на которую опирается угол  $120^\circ$ , вписанный в окружность радиуса  $15\sqrt{3}$ .

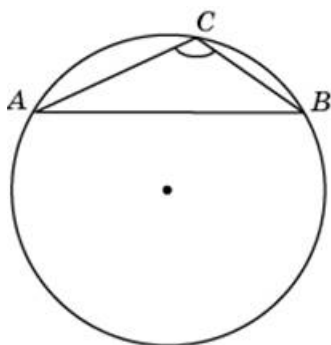
22.

Найдите хорду, на которую опирается угол  $120^\circ$ , вписанный в окружность радиуса  $21\sqrt{3}$ .

23.

Найдите хорду, на которую опирается угол  $120^\circ$ , вписанный в окружность радиуса  $13\sqrt{3}$ .

24.

Найдите хорду, на которую опирается угол  $120^\circ$ , вписанный в окружность радиуса  $46\sqrt{3}$ .

25.

Найдите хорду, на которую опирается угол  $120^\circ$ , вписанный в окружность радиуса  $41\sqrt{3}$ .