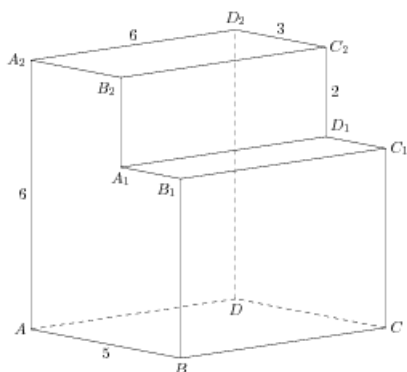


## Задания

### Задания Д13 № 277201

Найдите угол  $DAD_2$  многогранника, изображенного на рисунке. Все двугранные углы многогранника прямые. Ответ дайте в градусах.

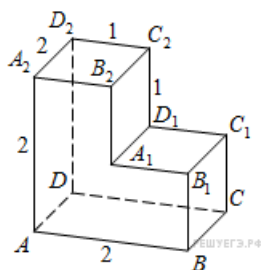
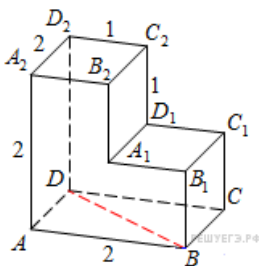


**Решение.**

Это задание ещё не решено, приводим решение прототипа.

Найдите угол  $ABD$  многогранника, изображенного на рисунке. Все двугранные углы многогранника прямые. Ответ дайте в градусах.

$ABCD$  — квадрат со стороной 2, а  $BD$  — его диагональ. Значит, треугольник  $ABD$  — прямоугольный и равнобедренный,  $AB = AD$ . Угол  $ABD$  равен  $45^\circ$ .  
 Ответ: 45.



[Прототип задания](#)