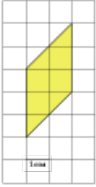


Задания**Задания Д15 № [252867](#)**

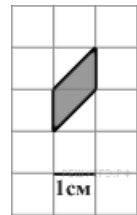
Найдите площадь параллелограмма, изображенного на клетчатой бумаге с размером клетки 1 см \times 1 см (см. рис.). Ответ дайте в квадратных сантиметрах.



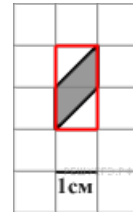
Решение.

Это задание ещё не решено, приводим решение [прототипа](#).

Найдите площадь параллелограмма, изображенного на клетчатой бумаге с размером клетки 1 см \times 1 см (см. рис.). Ответ дайте в квадратных сантиметрах.



Достроим четырёхугольник до прямоугольника площади 2, как показано на рисунке. Площади белых и серых частей прямоугольника равны, поэтому искомая площадь серого четырёхугольника равна 1 см².



[Прототип задания](#)